

natuurkunde 1

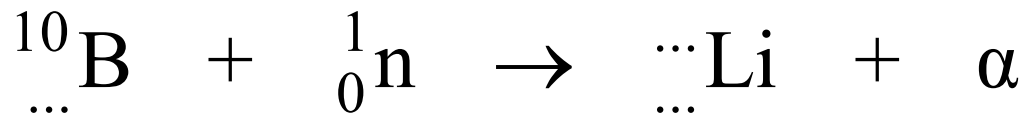
Examen HAVO 2005

Examennummer

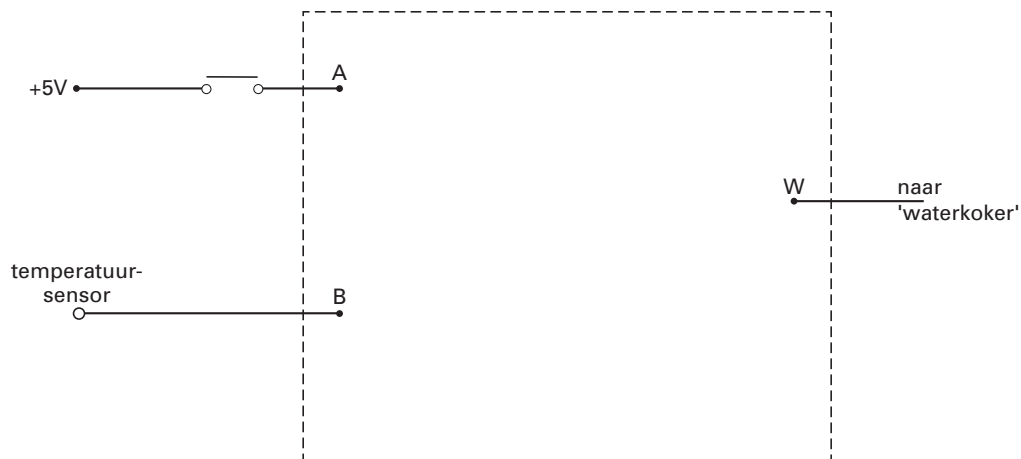
Tijdvak 1
Dinsdag 24 mei
13.30 – 16.30 uur

Naam

Vraag 1



Vraag 9

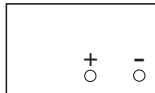


Vraag 11

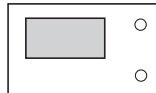
traject	stilstaan	met constante snelheid vooruit rijden	met constante snelheid terugrijden	versnellen	vertragen
I					
II					
III					
IV					

Vraag 19

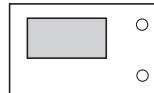
spanningsbron



ampèremeter



voltmeter



gloeilamp

