

Examen HAVO 2006

Examenummer

Tijdvak 2
Woensdag 21 juni
13.30 – 16.30 uur

Naam

Vraag 4

Vul in onderstaande uitspraken *kleiner*, *even groot* of *groter* in:

- In vergelijking met de verticaal vallende hamer is de valtijd van een horizontaal weggeworpen hamer
- In vergelijking met de verticaal vallende hamer is de snelheid waarmee een horizontaal weggeworpen hamer de grond treft

Vraag 11

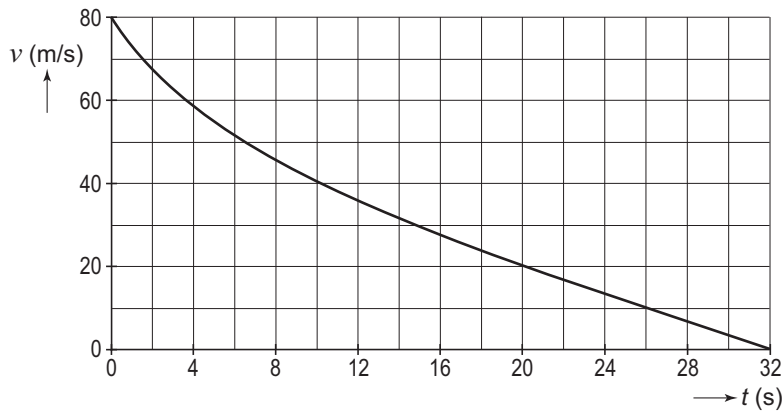
Zet een kruisje op de juiste plaatsen.

	(vrijwel) 0 V	(vrijwel) 12,8 V
U_{PQ}		
U_{RS}		

Vraag 13



Vraag 16



ruimte voor een berekening:

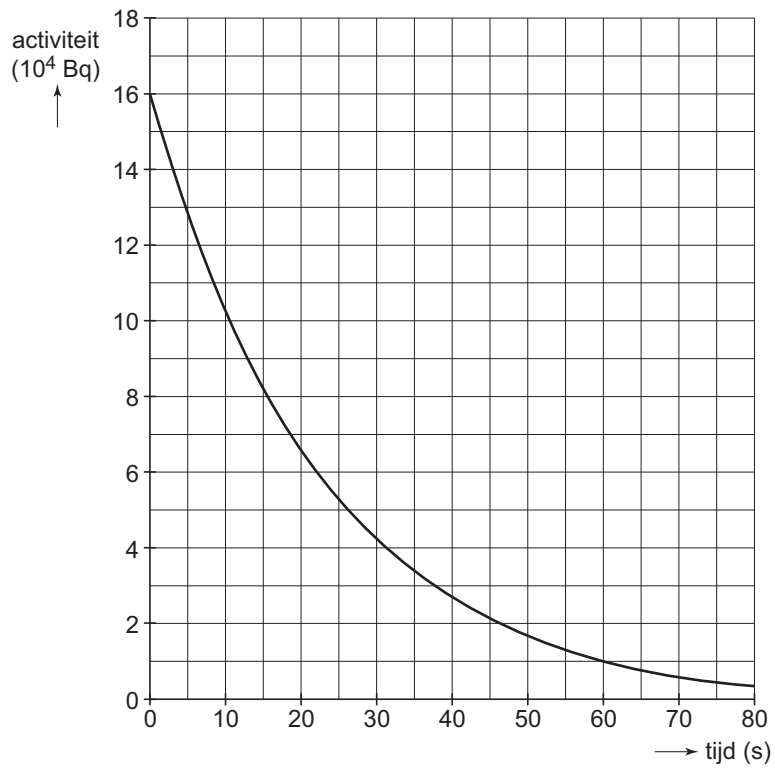
.....

.....

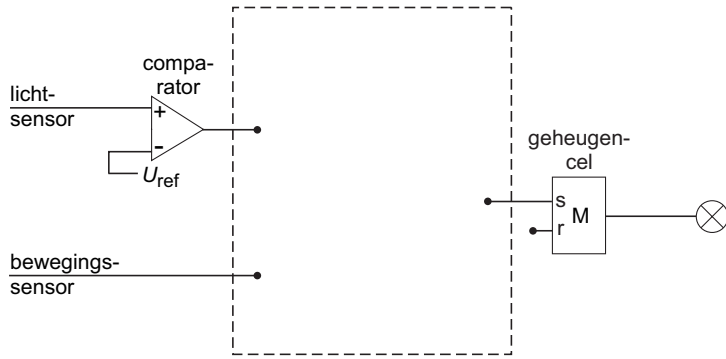
.....

.....

Vraag 20 en 21



Vraag 23



Vraag 24

